



Assistente Administrativo



## Instruções Gerais

**Caro Candidato:**

Leia com atenção e cumpra rigorosamente as seguintes instruções. Elas são parte da prova e das normas que regem este Concurso Público.

1. Este Caderno de Provas contém **50 questões objetivas** a serem respondidas e uma **redação** a ser desenvolvida. As instruções para a mesma estão na **página 10** deste Caderno de Provas. Recebido da fiscalização da sala, você deve conferi-lo, verificando se está completo. Caso contrário, deve solicitar a sua substituição.
2. O Caderno de Provas pode ser usado livremente para fazer rascunhos (cálculos, desenhos etc.), a fim de concluir pelas respostas às questões formuladas.
3. O tempo de duração total das provas será de **4 (quatro) horas e 30 (trinta) minutos**, incluída a leitura das instruções, o preenchimento do cartão de leitura óptica (cartão de respostas) e a entrega da folha de redação.
4. Não será permitida a saída definitiva do candidato da sala antes de transcorrida uma (1) hora do início da prova.
5. O candidato poderá levar o Caderno de Provas **somente** após transcorridas 4 h (quatro horas) do início da prova.
6. Cada questão oferece **5 alternativas de resposta representadas pelas letras a, b, c, d e e, sendo somente uma correspondente à resposta correta.**
7. Iniciada a prova, é vedado formular perguntas, pois o entendimento das questões é parte integrante da mesma.
8. Não é permitido comunicar-se com outro candidato ou socorrer-se de consultas a livros, anotações, agendas eletrônicas, gravadores, usar máquina calculadora, telefone celular e/ou similares ou qualquer instrumento receptor/transmissor de mensagens.
9. No **CARTÃO DE LEITURA ÓPTICA PERSONALIZADO (CARTÃO DE RESPOSTAS)**, você deve preencher totalmente apenas **uma alternativa (a, b, c, d, e) de cada questão, com caneta de ponta grossa azul ou preta, suficientemente pressionada**, conforme o exemplo:

95	<input type="checkbox"/> A	<input checked="" type="checkbox"/>	<input type="checkbox"/> C	<input type="checkbox"/> D	<input type="checkbox"/> E
96	<input type="checkbox"/> A	<input type="checkbox"/> B	<input checked="" type="checkbox"/>	<input type="checkbox"/> D	<input type="checkbox"/> E
97	<input type="checkbox"/> A	<input type="checkbox"/> B	<input type="checkbox"/> C	<input type="checkbox"/> D	<input checked="" type="checkbox"/>

10. Ao final da prova, você deve devolver à fiscalização da sala:
  - a) o **CARTÃO DE RESPOSTAS devidamente assinado no verso**, sem amassá-lo ou dobrá-lo, **porquanto ele é insubstituível**;
  - b) a **FOLHA DA REDAÇÃO**.
11. A questão não assinalada ou assinalada com mais de uma alternativa, emendada, rasurada, borrada, ou que vier com outra assinalação que não a prevista no item 9, **é nula**.
12. O Gabarito Preliminar será divulgado no site [www.conesul.org](http://www.conesul.org), no segundo dia útil após a realização desta prova objetiva, conforme estabelece o item 14.1 do Edital 02/2008.

BOA PROVA!

Nome:

Inscrição:



## Língua Portuguesa

### INSTRUÇÃO: AS PRÓXIMAS DEZ QUESTÕES REFEREM-SE AO TEXTO A SEGUIR.

Os bem vizinhos de Naziazeno Barbosa assistem \_\_\_\_\_ “pega” com o leiteiro. Por detrás das cercas, mudos, com a mulher e um que outro filho espantado já de pé \_\_\_\_\_ hora, ouvem. Todos aqueles quintais conhecidos têm o mesmo silêncio. Noutras ocasiões, quando era apenas a “briga” com a mulher, esta, como um último desaforo de vítima, dizia-\_\_\_\_\_:

“Olha, que os vizinhos estão ouvindo”. Depois, à hora da saída, eram aquelas caras curiosas à janela, com os olhos fitos nele, enquanto ele .....

O leiteiro diz-lhe aquelas coisas, despenca-se pela escadinha que vai do portão até à rua, toma as ..... do burro e sai a galope, fustigando o animal, furioso, sem olhar para nada. Naziazeno ainda fica um instante ali sozinho. (A mulher havia entrado.) Um ou outro olhar de criança fuzila através das frestas das cercas. As sombras têm uma frescura que cheira a ervas úmidas. A luz é doirada e anda ainda por longe, na copa das árvores, no meio da estrada avermelhada.

Naziazeno encaminha-se então para dentro de casa. Vai até ao quarto. A mulher ouve-lhe os passos, o barulho de abrir e fechar um que outro móvel. Por fim, ele aparece no pequeno comedouro, o chapéu na mão. Senta-se à mesa, esperando. Ela lhe traz o alimento.

– Ele não aceita mais desculpas...

Naziazeno não fala. A mulher havia-se sentado defronte dele, enquanto ele toma o café.

– Vai nos deixar ainda sem leite...

Ele engole o café, nervoso, com os dedos ossudos e cabeçudos quebrando o pão em pedaços miudinhos, sem olhar a mulher.

– É o que tu pensas. Temores... Cortar um fornecimento não é coisa fácil.

– ..... tu não viste então o jeito dele quando te declarou: “Lhe dou mais um dia!”

(Adaptado de: MACHADO, Dyonélio. Os ratos)

1. Assinale a alternativa que completa **correta** e respectivamente no texto as lacunas de linha contínua.

- a) ao – àquela – lhe
- b) o – aquela – o
- c) ao – aquela – lhe
- d) o – àquela – o
- e) ao – aquela – o

2. Assinale a alternativa que completa **correta** e respectivamente no texto as lacunas de linha pontilhada.

- a) cumprimentava – rédeas – Por que
- b) cumprimentava – rédias – Porque
- c) cumprimentava – rédeas – Porque
- d) cumprimentava – rédeas – Porque
- e) cumprimentava – rédias – Por que

3. A **correta** transformação de “Vai nos deixar ainda sem leite” para o discurso indireto é

- a) A esposa de Naziazeno disse que ele ia deixá-los ainda sem leite.
- b) A esposa de Naziazeno disse que o leiteiro ia deixá-los ainda sem leite.
- c) A esposa de Naziazeno disse que o leiteiro ia deixar eles ainda sem leite.
- d) A esposa de Naziazeno disse que ele ia deixar eles ainda sem leite.
- e) A esposa de Naziazeno disse que ele vai deixá-los ainda sem leite.

4. Em “A mulher ouve-**lhe** os passos”, o pronome destacado exerce função de

- a) objeto direto.
- b) objeto indireto.
- c) aposto.
- d) adjunto adnominal.
- e) agente da passiva.

5. Em “Os **bem** vizinhos de Naziazeno”, a palavra destacada indica que os vizinhos

- a) são muito amigos de Naziazeno.
- b) não têm problemas financeiros.
- c) são pessoas honestas.
- d) se preocupam com Naziazeno.
- e) moram próximo à casa de Naziazeno.

6. O sujeito da forma verbal “ouvem”, no segundo período do texto, é

- a) mudos.
- b) a mulher e um que outro filho.
- c) os bem vizinhos de Naziazeno Barbosa.
- d) todos aqueles quintais conhecidos.
- e) Naziazeno e o leiteiro.

7. Sobre a pontuação do texto, são feitas as seguintes afirmações:

- I. A separação de “mudos” (1º parágrafo) e “furioso” (3º parágrafo) por vírgulas é justificada pela mesma regra.
- II. As vírgulas do primeiro período do 3º parágrafo separam orações coordenadas assindéticas.
- III. A expressão “na copa das árvores” (3º parágrafo) está entre vírgulas porque é um adjunto adverbial deslocado.

Qual(is) está(ão) **correta(s)**?

- a) Apenas a I.
- b) Apenas a II.
- c) Apenas a III.
- d) Apenas a I e a III.
- e) Apenas a II e a III.

8. Se “Um ou outro olhar” (3º parágrafo – 4º período) fosse substituído por “olhares”, quantas outras modificações seriam necessárias na frase para ajustes de concordância?

- a) Nenhuma.
- b) Uma.
- c) Duas.
- d) Três.
- e) Quatro.

9. Analise as afirmações abaixo.

- I. As atitudes dos vizinhos, nas ocasiões em que Naziazeno brigava com a mulher, eram de mera curiosidade, como se pode depreender pela leitura do segundo parágrafo.
- II. A leitura do texto permite afirmar que “aquelas coisas” que o leiteiro diz a Naziazeno se referem ao fato de o pagamento do leite estar atrasado, o que pode ser comprovado pela frase “Lhe dou mais um dia!” (último parágrafo).
- III. O emprego do verbo “fuzilar”, no 3º parágrafo, indica que a reação dos vizinhos passou da curiosidade para a reprovação.

Qual(is) está(ão) **correta(s)**?

- a) Apenas a I.
- b) Apenas a II.
- c) Apenas a III.
- d) Apenas a I e a III.
- e) I, II e III.

10. Pelas características apresentadas, o texto todo é

- a) um depoimento de Naziazeno.
- b) uma narração em 1ª pessoa.
- c) uma narração em 3ª pessoa.
- d) apenas uma descrição.
- e) um misto de descrição e de dissertação.

### **INSTRUÇÃO: AS PRÓXIMAS SEIS QUESTÕES REFEREM-SE AO TEXTO A SEGUIR.**

Previsão de pautas: sábado, 23 de fevereiro

**SME** — Hoje, 23, e amanhã, 24, terminam as atividades da Ativação Esportiva no Lami, que acontece na Avenida Beira-Rio, 79, a partir das 13h30. Também acontecem as últimas etapas do Circuito Porto Alegre de Vôlei na areia, no Parque Marinha do Brasil, categorias masculino e feminino. Os jogos da categoria livre masculino ocorrem a partir das **15h** deste sábado, 23. As partidas de amanhã, nas duas categorias, começam às **15h**. Inscrições no local, a partir das 14h.

**DMAE** — Hoje, 23, o Programa Água Certa do Departamento Municipal de Água e Esgotos (Dmae) faz novo mutirão nas vilas Tijuca e Nova Tijuca. Além de renegociar contas de água vencidas, os moradores poderão solicitar a execução de serviços como conserto de vazamentos, troca de registros, manutenção de

hidrômetros, deslocamento de quadros e outros. O atendimento acontece na Associação de Moradores da Vila Nova Tijuca (Rua Reverendo Daniel Betts, 400), **das 9h30 às 12h e das 13h30 às 17h30**.

**TURISMO** — Hoje, 23, às **9h**, um grupo de médicos gaúchos faz o city tour do ônibus Linha Turismo. A iniciativa é do programa “Aprecie Porto Alegre”, do POA Convention & Visitors Bureau, com apoio da Secretaria Municipal de Turismo, que vai distribuir kits com materiais promocionais da cidade.

**TRÂNSITO** — Por causa da lavagem e pintura lateral do Theatro São Pedro, o trecho entre a Rua Riachuelo e a Praça da Matriz estará bloqueado **a partir das 9h de hoje, 23, por um prazo de 30 dias**. O estacionamento de Área Azul localizado na Rua General Câmara ficará desativado temporariamente.

**PRAIAS DA ZONA SUL** — Com base nas informações da análise de balneabilidade, a Secretaria Municipal do Meio Ambiente (Smam) informa que as praias do Lami e de Belém Novo permanecem em condições para banho. Os dados referem-se ao período de 20 a 27 de fevereiro.

Disponível em: [http://www2.portoalegre.rs.gov.br/cs/default.php?p\\_secao=13](http://www2.portoalegre.rs.gov.br/cs/default.php?p_secao=13). Acesso em: 24 fev. 2008.

11. Se as pautas do dia 23 de fevereiro tivessem sido escritas após essa data, haveria modificações nos tempos verbais e em algumas expressões adverbiais. Analise a nova redação da pauta da SME.

- I. Nos dias 23 e 24, terminaram as atividades da Ativação Esportiva no Lami, que aconteciam na Avenida Beira-Rio, 79, a partir das 13h30min.
- II. No dia 23, também aconteceram as últimas etapas do Circuito Porto Alegre de Vôlei na areia, no Parque Marinha do Brasil, categorias masculino e feminino.
- III. Os jogos da categoria livre masculino tinham ocorrido a partir das 15h deste sábado, 23.
- IV. As partidas do dia seguinte, nas duas categorias, começariam às 15h.

Quais das novas redações estão **corretas**?

- a) Apenas a I e a II.
- b) Apenas a II e a III.
- c) Apenas a I, a II e a III.
- d) Apenas a III e a IV.
- e) Apenas a I, a II e a IV.

12. Assinale a alternativa **correta** sobre a formação das palavras.

- a) “Renegociar” é uma palavra composta por justaposição.
- b) O sufixo de “execução” gera substantivos a partir de verbos.
- c) “Hidrômetro” é uma palavra formada por derivação prefixal.
- d) O sufixo de “municipal” forma substantivos a partir de adjetivos.
- e) “Meio Ambiente” e Belém Novo” são palavras compostas por justaposição.

13. Na oração “**que** vai distribuir *kits* com materiais promocionais da cidade”, a palavra destacada é

- a) conjunção integrante.
- b) conjunção explicativa.
- c) conjunção consecutiva.
- d) pronome relativo.
- e) conjunção causal.

14. A oração “que as praias do Lami e de Belém Novo permanecem em condições para banho” exerce função de

- a) adjunto adnominal.
- b) sujeito.
- c) objeto direto.
- d) objeto indireto.
- e) aposto.

15. Sobre a substituição da expressão “com base”, no trecho “Com base nas informações da análise de balneabilidade”, são feitas as seguintes afirmações:

- I. A expressão poderia ser substituída por “segundo” sem que houvesse necessidade de qualquer outra modificação na estrutura sintática.
- II. A utilização da expressão “de acordo com” exigiria a retirada da preposição “em”.
- III. A utilização de “consoante” exigiria uma nova combinação de preposição com artigo, qual seja “das”.

Qual(is) está(ão) **correta(s)**?

- a) Apenas a I.
- b) Apenas a II.
- c) Apenas a III.
- d) Apenas a I e a III.
- e) I, II e III.

16. Assinale a alternativa em que a palavra **não** obedeça à mesma regra de acentuação das demais.

- a) Trânsito.
- b) Câmara.
- c) Hidrômetro.
- d) Análise.
- e) Vôlei.

**INSTRUÇÃO: AS PRÓXIMAS QUATRO QUESTÕES REFEREM-SE ÀS CARACTERÍSTICAS DA REDAÇÃO OFICIAL.**

17. Ao dirigir-se a qualquer autoridade estadual ou federal, o pronome de tratamento deverá ser

- a) Vossa Senhoria.
- b) Sua Excelência.
- c) Vossa Excelência.
- d) Ilustríssimo(a) Senhor(a).
- e) Excelentíssimo(a) Senhor(a).

18. Sobre a ata, são feitas as seguintes afirmações:

- I. Deve ser transcrita à mão pelo secretário, em livro próprio com um termo de abertura e um termo de encerramento, assinados pelo próprio secretário.
- II. Os números devem ser escritos por extenso, evitando-se também as abreviações.
- III. O tempo verbal deve ser, preferencialmente, o pretérito perfeito do indicativo.

Qual(is) está(ão) **correta(s)**?

- a) Apenas a I.
- b) Apenas a II.
- c) Apenas a III.
- d) Apenas a II e a III.
- e) I, II e III.

19. Assinale o conceito correspondente a memorando interno.

- a) Ato administrativo adicional cujo objetivo é confirmar ou corrigir dados emitidos em documento anterior.
- b) Correspondência sucinta entre duas seções de um mesmo órgão.
- c) Ato através do qual uma autoridade estabelece normas administrativas, baixa instruções ou define situações funcionais.
- d) Meio de correspondência pelo qual alguém se dirige, ao mesmo tempo, a várias repartições ou pessoas.
- e) Esclarecimento prestado por determinado servidor, no exercício de sua função, a respeito de situações reais ou dispositivos legais, contidos em um processo.

20. Analise as afirmações sobre as normas para a redação de um ofício.

- I. Se os parágrafos forem numerados, o primeiro e o fecho não conterão numeração.
- II. Se o ofício constar de mais de uma folha, o endereço irá ao pé da primeira página.
- III. A data deverá estar alinhada com a margem esquerda.

Qual(is) está(ão) **correta(s)**?

- a) Apenas a I.
- b) Apenas a II.
- c) Apenas a III.
- d) Apenas a I e a III.
- e) Apenas a I e a II.

## Matemática

21. Assinale a alternativa que é solução das operações a seguir.

$$[((3 \times 12) + 4) \div 8]^2$$

- a) 4.  
b) 9.  
c) 16.  
d) 25.  
e) 36.
22. A proporção entre os números 5 e 8 é a mesma que entre  $(x - 3)$  e  $(x - 6)$ . O valor de  $x$  é

- a)  $-3$ .  
b)  $-2$ .  
c)  $-2/3$ .  
d)  $-3/2$ .  
e)  $-5/6$ .

23. A cada dois segundos, um ciclista percorre 10 m. Em quanto tempo ele percorrerá uma distância de 3,5 km?

- a) 10 min 20 s.  
b) 10 min 30 s.  
c) 10 min 50 s.  
d) 11 min 20 s.  
e) 11 min 40 s.

24. Considere a função linear  $y = -4x + 8$ . Assinale a alternativa que contém o par ordenado que pertence a essa função.

- a)  $(-2; 16)$ .  
b)  $(-2; \text{zero})$ .  
c)  $(4; 8)$ .  
d)  $(6; 8)$ .  
e)  $(8; -20)$ .

25. O produto das raízes da equação  $y = x^2 + 2x - 9$  é

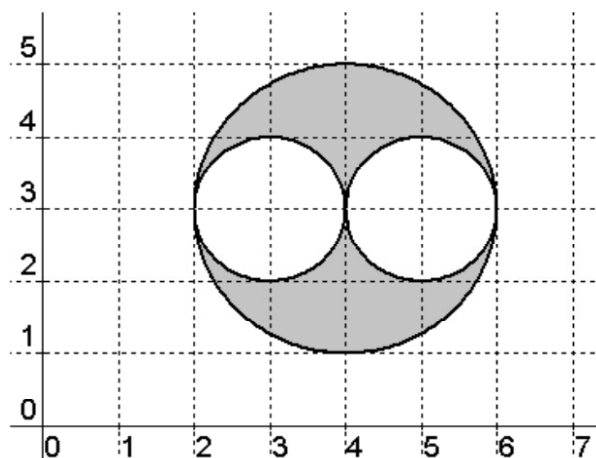
- a)  $-1$ .  
b)  $-2$ .  
c)  $-3$ .  
d)  $-7$ .  
e)  $-9$ .

26. Considere uma equação algébrica que admite  $-3$ ,  $3$  e  $6$  como raízes, entre outras.

Assinale a alternativa que corresponde ao grau  $G$  mínimo dessa equação.

- a)  $G = \text{zero}$ .  
b)  $G = 1$ .  
c)  $G \leq 2$ .  
d)  $G = 3$ .  
e)  $G \geq 3$ .

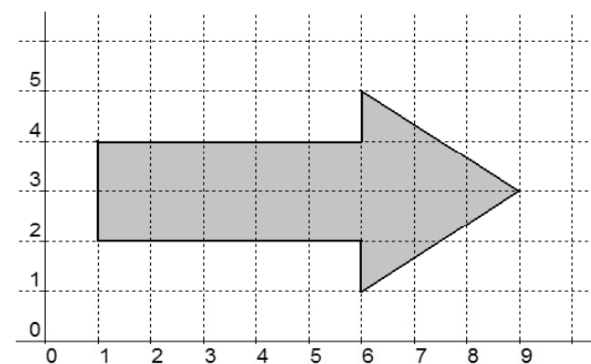
27. Observe a figura a seguir, e se oriente pelos valores numéricos indicados.



O valor da área escura da figura é

- a)  $\pi$ .  
b)  $3\pi/2$ .  
c)  $2\pi$ .  
d)  $5\pi/2$ .  
e)  $3\pi$ .

28. Observe a figura a seguir, e se oriente pelos valores numéricos indicados.



O valor da área escura é, em unidades arbitrárias

- a) 12.  
b) 8.  
c) 14.  
d) 16.  
e) 18.

29. Lança-se quatro vezes uma moeda não viciada.

A probabilidade de aparecer cara quatro vezes é

- a) 5,50%.  
b) 6,75%.  
c) 5,75%.  
d) 6,25%.  
e) 6,50%.

30. Um bem de valor inicial R\$ 20.000,00 deprecia-se numa proporção de 20 % ao ano. Após dois anos, seu valor será
- a) R\$ 14.400,00.
  - b) R\$ 12.800,00.
  - c) R\$ 13.600,00.
  - d) R\$ 13.888,88.
  - e) R\$ 12.000,00.

## Direito / Legislação

31. De acordo com a Constituição Federal de 1988, ficam evidenciados os direitos sociais dos trabalhadores urbanos e rurais. Assinale a alternativa que **não** representa um direito social expresso no capítulo II, em seu artigo 7º da Carta Magna.

- a) Proteção do mercado de trabalho da mulher, mediante incentivos específicos, nos termos da lei.
- b) Aviso prévio proporcional ao tempo de serviço, sendo no mínimo de trinta dias, nos termos da lei.
- c) Redução dos riscos inerentes ao trabalho, por meio de normas de saúde, higiene e segurança.
- d) Seguro-desemprego, em caso de desemprego voluntário.
- e) Proteção em face da automação, na forma da lei.

32. Conforme a Constituição Federal de 1988, que representou grandes avanços à sociedade brasileira, são estáveis após \_\_\_\_\_ de efetivo exercício, os servidores nomeados para cargo de provimento efetivo em virtude de \_\_\_\_\_.

Assinale a alternativa cuja expressão completa corretamente as lacunas.

- a) um ano / *ad referendum*
- b) dois anos / *ad valorem*
- c) três anos / concurso público
- d) quatro anos / indicação do STF
- e) cinco anos / nomeação por comissão

33. A data magna de Porto Alegre é

- a) 19 de janeiro.
- b) 02 de fevereiro.
- c) 17 de março.
- d) 26 de março.
- e) 23 de abril.

34. Conforme o Estatuto dos Funcionários Públicos do Município de Porto Alegre, o agrupamento de cargos da mesma profissão ou atividade e do mesmo nível de dificuldade é chamado de

- a) nível.
- b) classe.
- c) quadro.
- d) escalão.
- e) comissão.

35. De acordo com o Estatuto dos Funcionários Públicos do Município de Porto Alegre o ato de investidura em cargo de provimento efetivo ou em comissão, de acordo com a forma indicada em lei, se chama

- a) nomeação.
- b) declaração funcional.
- c) categorização.
- d) recondução.
- e) recrutamento.

36. Segundo o Estatuto dos Funcionários Públicos do Município de Porto Alegre, em seu artigo 41º, o serviço noturno é realizado entre às vinte e duas horas de um dia e às cinco horas do dia seguinte.

Assim sendo, a hora de trabalho noturno será computada como de

- a) cinquenta e dois minutos e trinta segundos.
- b) cinquenta e um minutos e vinte segundos.
- c) cinquenta e dois minutos e trinta e dois segundos.
- d) cinquenta e sete minutos e trinta segundos.
- e) cinquenta e dois minutos e trinta e nove segundos.

37. De acordo com o Estatuto dos Funcionários Públicos do Município de Porto Alegre, lotação pode ser definida como sendo

- a) a distribuição dos funcionários nas Repartições em que devam ter exercício, observados os limites numéricos fixados.
- b) a investidura do servidor em cargo de atribuições e responsabilidades compatíveis com a limitação que tenha sofrido em sua capacidade física ou mental verificada em inspeção médica.
- c) a reinvestidura do servidor estável no cargo anteriormente ocupado, ou no cargo resultante de sua transformação, quando invalidada a sua demissão por decisão administrativa ou judicial, com ressarcimento de todas as vantagens.
- d) o retorno obrigatório à atividade do servidor em disponibilidade em cargo de atribuições e vencimentos compatíveis com o anteriormente ocupado.
- e) o retorno do servidor estável ao cargo anteriormente ocupado e decorrerá de: I) inabilitação em estágio probatório relativo a outro cargo; II) reintegração do anterior ocupante.

38. A forma de provimento do funcionário estável em cargo de igual ou inferior classificação, mais compatível com suas condições de saúde física ou mental, podendo ser processada a pedido ou 'ex-officio', expressa no Estatuto dos Funcionários Públicos do Município de Porto Alegre, denomina-se

- a) promoção.
- b) transferência.
- c) readaptação.
- d) lotação.
- e) dotação.

39. Segundo o Estatuto dos Funcionários Públicos do Município de Porto Alegre, o aproveitamento de um funcionário é entendido como sendo

- a) a forma de investidura do funcionário em disponibilidade em cargo de provimento em comissão.
- b) a forma de investidura do funcionário em disponibilidade em cargo de provimento efetivo equivalente, por sua natureza e classificação, àquele de que era titular.
- c) a forma de investidura do funcionário em disponibilidade em cargo de provimento efetivo diferencial e equânime à sua formação acadêmica.
- d) a forma de investidura do funcionário em disponibilidade em cargo de provimento efetivo equiparada à sua condição a sua saúde física e mental.
- e) a forma de investidura do funcionário em disponibilidade em cargo de provimento efetivo alocado conforme sua condição biopsico-social.

40. Quando a sindicância concluir pela culpabilidade, conforme preceitua o Estatuto dos Funcionários Públicos do Município de Porto Alegre, será o funcionário notificado para apresentar defesa, no prazo de

- a) 3 (três) dias úteis.
- b) 4 (quatro) dias úteis.
- c) 6 (seis) dias úteis.
- d) 15 (quinze) dias úteis.
- e) 18 (dezoito) dias úteis.

## Informática

Para responder as questões de **informática** considere que os programas mencionados estão com a configuração padrão e que possuem licença de uso, e que o mouse está configurado para *destros*, e ainda que um clique ou duplo clique corresponde ao botão esquerdo do mouse.

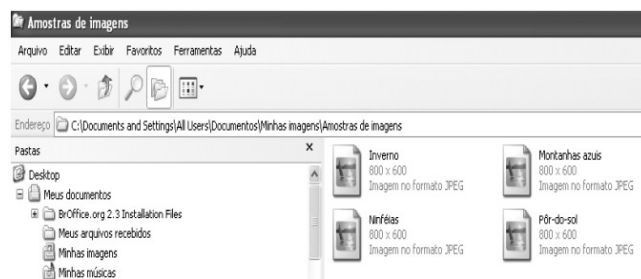


Figura 1 – Tela do Windows Explorer do XP

Considere os dados exibidos na Figura 1 para responder à primeira questão.

41. A figura acima mostra uma visão parcial de uma tela do Windows Explorer do XP. Identifique, em que modo de exibição os arquivos: Inverno, Montanhas azuis, Ninféias e Pôr-do-sol estão sendo exibidos.

- a) Miniaturas.
- b) Ícones.
- c) Lado a lado.
- d) Detalhes.
- e) Ícones Grandes.

42. Na guia configurações da caixa de diálogo Propriedades de Vídeo, quanto mais se aumenta a Resolução da tela (quantidade de pixels)

- a) menor fica o tamanho de uma janela e aumenta o tamanho da área de trabalho.
- b) menor fica o tamanho da janela e diminui o tamanho da área de trabalho.
- c) maior fica o tamanho da janela e maior o tamanho da área de trabalho.
- d) melhor fica a qualidade da imagem e os tamanhos não são afetados.
- e) diminui a qualidade da imagem e os tamanhos são diminuídos.

43. Quais são todos os nomes de espaçamentos Entre linhas que o Word 2002 disponibiliza (mostra na tela) para que um usuário possa utilizar em um documento em edição, utilizando o menu Formatar e o submenu Parágrafo?

- a) Simples / 1,5 linha / Duplo / Exatamente / Múltiplos
- b) Simples / 1,5 linha / Duplo / Pelo menos / Exatamente / Múltiplos
- c) Simples / 1,5 linha / Duplo / Pelo menos / Múltiplos
- d) Simples / 1,5 linha / Duplo / No mínimo / Exatamente / Múltiplos
- e) Simples / 1,5 linha / Duplo / A partir / Exatamente / Múltiplos



44. O recurso Inserir hiperlink (CTRL+K) que aparece em forma de um ícone na tela do Word 2002, muito utilizado por uma grande parte dos usuários, possibilita acessar

- I. um arquivo
- II. um site (URL)
- III. um correio eletrônico (Outlook)
- IV. a barra de tarefas do Windows XP

Qual(is) está(ão) **correto(s)**?

- a) Somente o I e o III.
- b) Somente o I e o II.
- c) Somente o III.
- d) Somente o I, II, III.
- e) Somente o II e o IV.

45. Considere que no Excel 2002 estão digitados e visíveis os seguintes valores contidos nos respectivos endereços de células que seguem: A1=8 / A2=5 / A3=2 / A4=5. O usuário posicionou o cursor na célula B1, e digitou exatamente como a seguir: SOMA(A1:A4) e, logo após, o mesmo pressionou a tecla ENTER. Identifique, como ficará o conteúdo da célula B1.

- a) 13
- b) 20
- c) 10
- d) #NOME?
- e) SOMA(A1:A4)

46. Em uma planilha do Excel 2002 estão digitados e visíveis os seguintes valores contidos nos respectivos endereços de células que seguem: C1= R\$ 100,00 / C2= R\$ 350,00 / C3= R\$ 150,00 / C4= R\$ 50,00 / C5= 2 / C6= 12. Considere que o cursor está posicionado na célula D2, e o usuário digitou exatamente como a seguir: =CONT.VALORES(C1:C6) e, logo após, o mesmo pressionou a tecla ENTER. Determine como ficará o conteúdo da célula D2.

- a) 6
- b) R\$ 650,00
- c) 4
- d) 14
- e) R\$ 350,00



47. No Microsoft Office Outlook 2003, os botões



são chamados, respectivamente, de

- a) Permissão (Acesso Restrito) / Criar regra
- b) Permissão (Acesso Irrestrito) / Criar regra
- c) E-mail (Recebido) / E-mail enviado
- d) E-mail (Não enviado) / E-mail recebido
- e) Fora de conexão / E-mail recebido

48. Analise as afirmativas a seguir.

- I. O Microsoft Outlook utiliza o protocolo SMTP para enviar uma mensagem (e-mail).
- II. No Internet Explorer 6, os botões ao lado   são chamados, respectivamente, de: Fechar e Atualizar.
- III. Um arquivo após ter sido deletado da lixeira (configuração padrão), retorna sempre para a área de trabalho do Windows XP.
- IV. Através do menu Formatar do Word 2002, podemos visualizar o submenu Ortografia e Gramática.
- V. Endereço de célula em uma planilha do Excel 2002 é o encontro de uma coluna com uma linha (letra e número), respectivamente.

Quais estão **corretas**?

- a) Somente a I, a II e a III.
- b) Somente a II, a III, a IV e a V.
- c) Somente a I e a V.
- d) Somente a III, a IV e a V.
- e) Somente a I, a III e a V.

49. Em relação ao Internet Explorer 6, os botões



são chamados, respectivamente, de

- a) Pesquisar / Pasta
- b) Localizar / Discussão
- c) Localizar / Pasta
- d) Pesquisar / Discussão
- e) Localizar / Editar

50. Considere que em uma planilha do Excel 2002, foram digitados e estão visíveis os endereços de célula contendo respectivamente os seguintes valores: A1=4 / A2=6 / A3=5 / B1=8 / B2=2 / B3=4 / C1=2 / C2=10 / C3=12. E que o cursor está localizado na célula A5, contendo exatamente a seguinte função:

=SE(A1<>B3;MÍNIMO(A2:C3;0);SOMASE(B1:B3;"2";C1:C3))

e, logo após essa operação, o usuário pressionou a tecla ENTER.

Determine como ficará o conteúdo da célula A5.

- a) 6
- b) 2
- c) 0
- d) 16
- e) 10

# Instruções para Redação

No texto a seguir, Luis Fernando Verissimo escreve sobre algumas das peculiaridades da cidade de Porto Alegre, especialmente sobre alguns de seus pontos turísticos mais conhecidos.

## A cidade que não está no mapa

Luis Fernando Verissimo

Sempre aviso aos visitantes: Porto Alegre vive à beira de alguns mal-entendidos.

Para começar, fica na beira de um rio que não é rio. O Guaíba é um estuário, uma espécie de ante-sala onde cinco rios se reúnem para entrar juntos na Lagoa do Patos. Mas todos o chamam de rio Guaíba.

A rua principal da cidade não existe. Você rodará toda a cidade à procura da Rua da Praia e não a encontrará. Usando a lógica – o que é sempre arriscado, em Porto Alegre – procurará uma rua que margeie o rio (que não é rio), ou que comece ou termine numa praia. Se dará mal. Não há praias no centro da cidade e nenhuma rua ao longo do falso rio se chama “da Praia”. Finalmente, desconfiado de que a rua principal só pode ser aquela que concentra a maior parte do tráfego de pedestres do centro, você consultará a placa e lerá “Rua dos Andradas”. Mas ninguém a chama de Rua dos Andradas, chamam pelo nome antigo. Rua da Praia. Por que da praia? Ninguém sabe. Só se sabe que ela vai da Ponta do Gasômetro, que não é mais gasômetro, até a Praça Dom Feliciano, que todos chamam de Praça da Santa Casa, passando pela Praça da Alfândega, que já foi Praça Senador Florêncio mas voltou a ser Praça da Alfândega porque ficava na frente da Alfândega – que não existe mais. Confuso, você talvez entre no prédio da prefeitura para pedir satisfações, só para descobrir que entrou no prédio errado. Existe outra prefeitura, a nova, atrás da velha, que por sua vez tem na frente uma praça chamada não Porto Alegre mas Montevideú. Na prefeitura certa talvez lhe digam para ir se queixar ao bispo, tendo que, para isto, subir a Rua da Ladeira até a Praça da Matriz, onde fica a catedral. Desista. Você não encontrará nem a Rua da Ladeira, que hoje se chama (só ela se chama, porque ninguém mais a chama assim) General Câmara. E a Praça da Matriz na verdade é a Praça Marechal Deodoro, embora poucos porto-alegrenses saibam disso.

A única vantagem de toda esta confusão é que você precisará de muito tempo para ir decifrando Porto Alegre – ao contrário do que acontece em cidades previsíveis e sem graça como Paris, Roma, etc., onde tudo tem o mesmo nome há séculos.

(...)

Aos domingos pela manhã, boa parte da população de Porto Alegre vai ao “Brique da Redenção”. Você procurará em vão pelo Parque da Redenção. Encontrará, isso sim, o Parque Farroupilha, assim chamado em homenagem à revolução do mesmo nome que os gaúchos fizeram em 1835 contra o Império, proclamando a República Rio-Grandense. Mas, embora todo mundo hoje comemore a insurreição, Porto Alegre manteve-se fiel ao governo central e por isso mereceu o título de “leal e valerosa cidade” conferido pelo imperador Pedro II, e que está no seu brasão.

Quer dizer, outro mal-entendido.

## PROPOSTA

Você deverá escrever um texto dissertativo que responda à seguinte pergunta: **o que recomendar a quem visita Porto Alegre pela primeira vez?** Para desenvolvê-lo, selecione um aspecto da cidade, especificando as razões de sua escolha e as vantagens que o visitante terá seguindo sua recomendação.

## INSTRUÇÕES

Para concorrer à totalidade da nota, seu texto deverá

- a) ser dissertativo;
- b) ter um título;
- c) ter entre 25 e 30 linhas;
- d) manter-se rigorosamente dentro do tema;
- e) ser escrito a caneta, com letra legível de tamanho regular;
- f) utilizar a Língua Portuguesa culta padrão.

Seu texto receberá nota **zero** se

- a) não obedecer ao tipo de texto proposto;
- b) fugir ao tema;
- c) não obedecer ao limite de linhas (mínimo e máximo);
- d) estiver a lápis.



