

# CONCURSO PÚBLICO

## DEPARTAMENTO MUNICIPAL DE ÁGUA E ESGOTOS DE PORTO ALEGRE – DMAE

**EDITAL Nº. 8/2011**

### **INSTRUÇÕES**

- 01 - Material a ser utilizado: caneta esferográfica azul ou preta. Os objetos restantes devem ser colocados em local indicado pelo fiscal da sala, inclusive aparelho celular desligado e devidamente identificado com etiqueta.
- 02 - Não é permitido a utilização de máquinas calculadoras e/ou similares, livros, anotações, impressos ou qualquer outro material de consulta. Não é permitido ao candidato ingressar na sala de provas sem a respectiva identificação e o devido recolhimento de telefone celular, bip e outros aparelhos eletrônicos.
- 03 - Durante a prova, o candidato não deve levantar-se, comunicar-se com outros candidatos e nem fumar.
- 04 - A duração da prova é de 04 (quatro) horas, já incluindo o tempo destinado à entrega do Caderno de Provas e à identificação – que será feita no decorrer da prova – e ao preenchimento do Cartão de Respostas (Gabarito).
- 05 - Somente em caso de urgência pedir ao fiscal para ir ao sanitário, devendo no percurso permanecer absolutamente calado, podendo antes e depois da entrada sofrer revista através de detector de metais. Ao sair da sala no término da prova, o candidato não poderá utilizar o sanitário. Caso ocorra uma emergência, o fiscal deverá ser comunicado.
- 06 - O Caderno de Provas consta de 60 (sessenta) questões de múltipla escolha. Leia-o atentamente.
- 07 - As questões das provas objetivas são do tipo múltipla escolha, com 05 (cinco) opções (A a E) e uma única resposta correta.**
- 08 - Ao receber o material de realização das provas, o candidato deverá conferir atentamente se o Caderno de Provas corresponde ao cargo a que está concorrendo, observando o nome do cargo na parte superior da próxima página, bem como se os dados constantes no Cartão de Respostas (Gabarito) que lhe foi fornecido, estão corretos. Caso os dados estejam incorretos, ou o material esteja incompleto ou tenha qualquer imperfeição, o candidato deverá informar tal ocorrência ao fiscal.
- 09 - Os fiscais não estão autorizados a emitir opinião e prestar esclarecimentos sobre o conteúdo das provas. Cabe única e exclusivamente ao candidato interpretar e decidir.
- 10 - O candidato poderá retirar-se do local de provas somente a partir dos 90 (noventa) minutos após o início de sua realização, contudo não poderá levar consigo o Caderno de Provas, somente sendo permitida essa conduta apenas no decurso dos últimos 30 (trinta) minutos anteriores ao horário previsto para o seu término.
- 11 - Os 3 (três) últimos candidatos de cada sala somente poderão sair juntos. Caso o candidato insista em sair do local de aplicação da prova, deverá assinar um termo desistindo do Concurso Público e, caso se negue, deverá ser lavrado o Termo de Ocorrência, testemunhado pelos 2 (dois) outros candidatos, pelo fiscal da sala e pelo coordenador da unidade escolar.

### **RESULTADOS E RECURSOS**

- Os gabaritos oficiais preliminares das provas objetivas serão divulgados na Internet, no *site* [www.consulplan.net](http://www.consulplan.net), no dia subsequente ao da realização da prova escrita (segunda-feira).
- Os recursos deverão ser apresentados, conforme determinado no **item 11 do Edital nº. 8/2011**, sendo observados os seguintes aspectos:
- a) O candidato que desejar interpor recursos contra os gabaritos oficiais preliminares das provas objetivas disporá de **03 (três) dias úteis**, do dia subsequente ao da publicação (até quinta-feira).
- b) A interposição de recursos poderá ser feita **somente via Internet**, através do **Sistema Eletrônico de Interposição de Recursos**, com acesso pelo candidato ao fornecer os dados referentes à sua inscrição, apenas no prazo recursal, à **Consulplan**, conforme disposições contidas no *site* [www.consulplan.net](http://www.consulplan.net), no *link* correspondente ao Concurso Público.

**TEXTO:**

**O suor e a lágrima**

Fazia calor no Rio, 40 graus e qualquer coisa, quase 41. No dia seguinte, os jornais diriam que fora o mais quente deste verão que inaugura o século e o milênio. Cheguei ao Santos Dumont, o voo estava atrasado, decidi engraxar os sapatos. Pelo menos aqui no Rio, são raros esses engraxates, só existem nos aeroportos e em poucos lugares avulsos.

Sentei-me naquela espécie de cadeira canônica, de cor de abadia pobre, que também pode parecer o trono de um rei desolado de um reino desolante.

O engraxate era gordo e estava com calor – o que me pareceu óbvio. Elogiou meus sapatos, como italiano, fabricante ilustre, os Rosseti. Uso-o pouco, em parte para poupá-lo, em parte porque quando posso estou sempre de tênis.

Ofereceu-me o jornal que eu já havia lido e começou seu ofício. Meio careca, o suor encharcou-lhe a testa e a calva. Pegou aquele paninho que dá brilho final nos sapatos e com ele enxugou o próprio suor, que era abundante.

Com o mesmo pano, executou com maestria aqueles movimentos rápidos em torno da biqueira, mas a todo instante o usava para enxugar-se – caso ao contrário, o suor inundaria o meu cromo italiano.

E foi assim que a testa e a calva do valente filho do povo ficaram manchadas de graxa e o meu sapato adquiriu um brilho de espelho à custa do suor alheio. Nunca tive sapatos tão brilhantes, tão dignamente suados.

Na hora de pagar, alegando não ter nota menor, deixei-lhe um troco generoso. Ele me olhou espantado, retribuiu a gorjeta me desejando em dobro tudo o que eu viesse a precisar nos restos dos meus dias.

Saí daquela cadeira com um baita sentimento de culpa [...] meus sapatos não estavam tão sujos assim, por míseros tostões, fizera um filho do povo suar para ganhar seu pão. Olhei meus sapatos e tive vergonha daquele brilho humano, salgado como lágrima.

(Cony, Carlos Heitor. *O suor e a lágrima*. Disponível em: <[http://www.releituras.com/cony\\_menu.asp](http://www.releituras.com/cony_menu.asp)> Acesso em: 10 set. 2007)

**01) De acordo com o texto, marque V para as afirmativas verdadeiras e F para as falsas.**

- ( ) O texto reflete sobre as dificuldades que as pessoas enfrentam para ganhar o seu sustento.  
( ) O texto demonstra as vantagens de se trabalhar muito apesar das dificuldades.  
( ) O texto trata das alegrias e tristezas de um engraxate que não gosta do seu emprego.

**A sequência está correta em**

- A) F, V, F      B) V, F, F      C) V, V, V      D) V, F, V      E) V, V, F

**02) O que as palavras suor e lágrimas têm em comum?**

- A) O fato do narrador pedir para engraxar seu sapato.  
B) O calor do Rio de quase 41 graus.  
C) O troco generoso.  
D) As excreções eliminadas em momentos de dificuldade.  
E) O trabalho difícil ao longo do dia.

**03) “Ele me olhou espantado, retribuiu a gorjeta me desejando em dobro tudo o que eu viesse a precisar nos restos dos meus dias.” A palavra destacada anteriormente significa**

- A) gratificação.      D) quantia de dinheiro.  
B) quantia avulsa.      E) suor alheio.  
C) moeda antiga.

**04) Em “Nunca tive sapatos tão brilhantes, tão dignamente suados.”, a palavra destacada exprime ideia de**

- A) intensidade.      B) tempo.      C) negação.      D) modo.      E) dúvida.

**05) Os verbos transcritos do texto encontram-se no pretérito perfeito do modo indicativo, EXCETO:**

- A) Pegou.      B) Olhou.      C) Tive.      D) Estou.      E) Havia.

**06) As palavras apresentam correta justificativa quanto à acentuação, EXCETO em:**


- A) século: proparoxítona      D) lágrima: proparoxítona  
B) só: monossílabo átono      E) espécie: paroxítona terminada em ditongo  
C) também: oxítona terminada em “em”

**07) A palavra “paninho” apresenta**

- A) encontro vocálico.      D) tritongo.  
B) hiato.      E) ditongo.  
C) dígrafo.

- 08) “Meio careca, o suor encharcou-lhe a testa e a calva.” A palavra destacada anteriormente se fere ao
- A) tênis. B) Santos Dumont. C) calor. D) ofício. E) engraxate.
- 09) “... em parte porque quando posso estou sempre de tênis.” A palavra destacada anteriormente exprime circunstância de
- A) finalidade. B) tempo. C) proporção. D) explicação. E) alternância.
- 10) “Saí daquela cadeira com um baita sentimento de culpa.” O ponto final ( . ) foi utilizado para
- A) finalizar questionamento. D) marcar enumerações.  
B) denotar espanto. E) destacar gírias.  
C) encerrar período.
- 11) “O engraxate era gordo e estava com calor.” A palavra destacada apresenta com antônimo
- A) rápido. B) magro. C) alheio. D) pobre. E) baita.
- 12) Quanto à classe de palavras, assinale a relação INCORRETA.
- A) “Olhei meus sapatos...” (pronome)  
B) “E foi assim que a testa e a calva...” (adjetivo)  
C) “Ofereceu-me o jornal que eu já havia lido...” (substantivo)  
D) “... estou sempre de tênis.” (advérbio)  
E) “... e em poucos lugares avulsos.” (substantivo)
- 13) Assinale a afirmativa que apresenta ERRO de ortografia.
- A) Eu decidi engraxar os sapatos. D) O verão chegou atrasado.  
B) O menino enchugou o suor da testa. E) As lágrimas são salgadas.  
C) Os sapatos estão brilhantes.
- 14) Associe as palavras de acordo com o seu significado.
1. desolado ( ) profissão  
2. maestria ( ) solitário  
3. ofício ( ) sabedoria
- A sequência está correta em
- A) 2, 3, 1 B) 3, 1, 2 C) 1, 3, 2 D) 1, 2, 3 E) 3, 2, 1
- 15) Há ERRO quanto à separação de sílaba em
- A) engraxate: en - gra - xa - te D) filho: fil - ho  
B) calor: ca - lor E) generoso: ge - ne - ro - so  
C) posso: pos - so
- 16) Em “No dia seguinte, os jornais diriam que fora o mais quente deste verão que inaugura o século e o milênio.”, a vírgula ( , ) foi utilizada para
- A) marcar adjunto adverbial anteposto. D) interromper o período.  
B) marcar omissão de palavra. E) isolar citação.  
C) marcar pausa de longa duração.
- 17) A palavra “lágrima” apresenta
- A) encontro vocálico. D) encontro consonantal.  
B) ditongo. E) hiato.  
C) dígrafo.
- 18) “Olhei meus sapatos...” O pronome destacado na frase indica ideia de
- A) relação. B) posse. C) interrogação. D) indefinição. E) posição.
- 19) De acordo com o texto, o engraxate era
- A) canônico. B) italiano. C) brilhante. D) generoso. E) valente.
- 20) É um substantivo abstrato
- A) suor. B) vergonha. C) lágrima. D) ofício. E) milênio.

**CONCURSO PÚBLICO – DEPARTAMENTO MUNICIPAL DE ÁGUA E ESGOTOS DE PORTO ALEGRE – DMAE**  
**CONHECIMENTOS ESPECÍFICOS**

- 21) **Acerca das normas gerais de circulação e conduta, marque V para as afirmativas verdadeiras e F para as falsas.**
- ( ) Antes de colocar o veículo em circulação é dispensável a verificação dos equipamentos de uso obrigatório, bem como assegurar-se da existência suficiente de combustível.
- ( ) O condutor deverá, a todo momento, ter domínio de seu veículo.
- ( ) Os veículos precedidos de batedores terão prioridade de passagem, respeitadas as demais normas de circulação.
- A sequência está correta em**
- A) V, F, V      B) F, V, V      C) V, V, V      D) F, F, V      E) F, V, F
- 22) **Todo condutor, ao perceber que poderá ser ultrapassado por outro motorista/veículo, deverá**
- I.** se estiver circulando pela faixa da esquerda, deslocar-se para a faixa da direita, sem acelerar a marcha.
- II.** se estiver circulando pelas demais faixas, manter-se naquela em que está circulando, sem acelerar a marcha.
- Assinale a alternativa correta.**
- A) As duas afirmativas estão corretas.      D) Apenas a afirmativa II está correta.
- B) As duas afirmativas estão erradas.      E) As duas afirmativas estão parcialmente corretas.
- C) Apenas a afirmativa I está correta.
- 23) **Em relação às luzes do carro, marque a alternativa INCORRETA.**
- A) O condutor manterá aceso os faróis, utilizando luz baixa, durante a noite e durante o dia nos túneis providos de iluminação pública.
- B) Durante a noite, em circulação, o condutor manterá acesa a luz de placa.
- C) Nas vias não iluminadas, o condutor deve usar luz alta, exceto quando encontrar com outro veículo.
- D) O condutor utilizará o pisca-alerta em imobilizações ou situações de emergência.
- E) O condutor manterá apenas o farol alto quando o veículo estiver sob chuva forte ou neblina.
- 24) **Marque a alternativa que NÃO condiz com a classificação das vias urbanas.**
- A) Via coletora.      D) Via rodoviária.
- B) Via de trânsito rápido.      E) Via arterial.
- C) Via local.
- 25) **Os sinais de trânsito classificam-se em, EXCETO:**
- A) Horizontais.      D) Luminosos.
- B) Verticais.      E) Gestos do agente de trânsito e de condutor.
- C) Longitudinal.
- 26) **Marque a alternativa correta correspondente à pontuação perdida ao se cometer uma infração.**
- A) média – 5 pontos; gravíssima – 7 pontos.      D) leve – 3 pontos; gravíssima – 6 pontos.
- B) leve – 2 pontos; grave – 5 pontos.      E) média – 5 pontos; grave – 4 pontos.
- C) média – 4 pontos; grave – 5 pontos.
- 27) **As placas são sinais de trânsito e classificados como verticais. São elas, EXCETO:**
- A) Placas de advertência.      D) Placas educativas.
- B) Placas de sonorização.      E) Placas de obras.
- C) Placas de identificação.
- 28) **Observe a placa e assinale o seu significado.**
- A) Proibido retornar à esquerda.
- B) Proibido ultrapassar.
- C) Proibido virar à esquerda.
- D) Proibido mudar de faixa ou pista de trânsito da direita para a esquerda.
- E) Proibido mudar de faixa ou pista de trânsito da esquerda para a direita.
- 
- 29) **Marque a alternativa INCORRETA em relação à infração.**
- A) Grave – confiar ou entregar a direção do veículo a pessoa que, mesmo habilitada, por seu estado físico não estiver em condições de dirigir.
- B) Grave – deixar o condutor ou passageiro de usar o cinto de segurança.
- C) Gravíssima – transportar crianças sem observância das normas de segurança.
- D) Média – atirar do veículo ou abandonar na via objetos ou substâncias.
- E) Leve – parar o veículo afastado da guia da calçada (meio-fio) de cinquenta centímetros a um metro.

**30) Ao manusear máquinas pesadas, deve-se ter alguns cuidados como, EXCETO:**

- A) Somente dar partida no motor, estando instalado no assento do operador.
- B) Nunca transportar acompanhante. Somente o operador deverá estar na máquina quando esta estiver em operação.
- C) Diariamente, antes de iniciar a tarefa, verificar o funcionamento da máquina, seus controles e partes móveis.
- D) Lubrificar a máquina em funcionamento.
- E) Examinar sempre a consistência do solo, antes de entrar com a máquina no campo de trabalho.

**31) Analise as afirmativas.**

- I.** Nunca usar o equipamento hidráulico para levantar a máquina, com o fim de realizar trabalhos de manutenção ou reparos.
- II.** No caso de máquina equipada com reversão mecânica, deve-se soltar bruscamente o pedal da embreagem, a fim de evitar trancos violentos.
- III.** No caso de máquina equipada com transmissão com reversor automático, nunca utilizar o reversor automático como freio de trabalho.

**Está(ão) correta(s) apenas a(s) afirmativa(s)**

- A) I
- B) I, III
- C) II, III
- D) I, II, III
- E) III

**32) São cuidados com as máquinas pesadas, EXCETO:**

- A) Ao abastecer o reservatório de combustível deve-se, desligar a máquina e não fumar, pois o óleo diesel é inflamável.
- B) Manter sempre as soleiras, alças de apoio, volante e demais comandos livres de barro, óleo e graxa.
- C) Subir e descer da máquina somente pelo lado direito, para evitar esbarros acidentais em alavancas, freios e controles.
- D) Estacionar sempre em local plano.
- E) Ao deslocar a máquina de um lugar para outro, deve-se destravar a lança de levante da retroescavadeira.

**33) “Um dos fatores que contribui de maneira efetiva para uma longa vida do motor é a manutenção correta do sistema de \_\_\_\_\_. Pelo fato de utilizar \_\_\_\_\_, é necessário cuidados especiais.” Assinale a alternativa que completa corretamente a afirmativa anterior.**

- A) transmissão / óleo
- B) arrefecimento / água
- C) freios / água
- D) lubrificação / água
- E) arrefecimento / óleo

**34) Sobre instrumentos, controles e componentes de um veículo pesado, marque a afirmativa INCORRETA.**

- A) Na máquina de reversão mecânica, somente será freada a roda dianteira esquerda.
- B) A alavanca da reversão manual se for acionada para frente ou para trás, permite inverter o sentido de deslocamento da máquina.
- C) Trava de estacionamento é um dispositivo destinado a travar os pedais dos freios na posição de rodas freadas.
- D) Para engrenar uma marcha, deve-se acionar sempre a embreagem.
- E) As luzes dos freios e lanterna acham-se montadas na parte superior da estrutura, juntas ao toldo.

**35) As causas mais frequentes da falta de partida em máquinas pesadas são, EXCETO:**

- A) Motor de partida com defeito.
- B) Baterias com pouca carga.
- C) Falta de lubrificação nos freios.
- D) Presença de ar no circuito de alimentação.
- E) Instalação elétrica com defeito.

**36) “Ponteiro na faixa vermelha indica pressão insuficiente.” As causas podem ser, EXCETO:**

- A) Marcha lenta muito baixa.
- B) Óleo com viscosidade adequada à temperatura ambiente.
- C) Filtros de óleo entupidos.
- D) Anormalidades no circuito de lubrificação.
- E) Baixo nível do óleo no cárter.

**37) Em relação à execução de manobras de máquinas pesadas, marque V para as afirmativas verdadeiras e F para as falsas.**

- ( ) Para executar curvas de grande raio é suficiente manobrar com as embreagens de direção.
- ( ) Para executar curvas de pequeno raio, é necessário desaplicar uma das embreagens de direção e frear com o pedal diferente à esteira do mesmo lado.
- ( ) Percorrendo fortes declives com carga traseira empurrando a máquina, as manobras de direção devem ser correspondentes. Para virar à direita, deve-se desaplicar a embreagem esquerda.

**A sequência está correta em**

- A) V, F, V
- B) V, F, F
- C) V, V, F
- D) F, F, V
- E) F, F, F



**38) Relacione a segunda coluna com os respectivos equipamentos básicos de um caminhão-guindaste.**

1. lança ( ) Pesos de várias toneladas, colocadas atrás da cabine de comando para evitar o tombamento  
2. contrapeso ( ) do guindaste.  
3. suporte ( ) Mantém o guindaste equilibrado.  
( ) Braço grande, principal responsável pelo içamento.

**A sequência está correta em**

- A) 2, 3, 1      B) 1, 2, 3      C) 2, 1, 3      D) 3, 2, 1      E) 1, 3, 2

**39) São partes de um caminhão-guindaste, EXCETO:**

- A) Lança.      D) Gancho.  
B) Cabos de aço reforçado.      E) Engrenagem rotex.  
C) Perna extensor.

**40) Marque a alternativa INCORRETA acerca de caminhão-guindaste.**

- A) É usado para elevar cargas pesadas a grandes alturas.  
B) Luzes indicadoras de cargas se acendem quando a capacidade máxima do guindaste se aproxima.  
C) Contrapesos devem ser colocados sob a cabine do guindaste para evitar que ele caia para frente.  
D) Os contrapesos são usados apenas durante o alçamento.  
E) Os pneus oferecem a estabilidade necessária para que haja a operação de içamento.

**CONHECIMENTOS GERAIS**

**41) O Pico da Neblina, localizado na Serra do Imei (Amazonas), é o ponto culminante do Brasil, com 3.014 metros de altura. O Pico da Bandeira, na Serra de Caparaó (divisa entre os estados de Minas Gerais e Espírito Santo), tem 2.889 metros de altura. Qual a diferença, em metros, entre estes dois picos brasileiros?**

- A) 105      B) 113      C) 115      D) 125      E) 135

**42) A sala de cinema tem 630 lugares. Já estão ocupados 352. Quantos lugares vagos há ainda?**

- A) 268      B) 278      C) 288      D) 378      E) 388

**43) O time de futebol de salão tem 5 jogadores. Se cada jogador tem 2 uniformes completos, quantas peças (calções e camisas) devem ser adquiridos no total?**

- A) 4      B) 10      C) 12      D) 15      E) 20

**44) Para a realização de uma excursão à cidade de Tiradentes/MG, os alunos de uma escola foram divididos em 15 ônibus. Cada ônibus ficou com 42 alunos e 2 professores. Quantos alunos, no total, participaram da excursão?**

- A) 252      B) 282      C) 600      D) 630      E) 660

**45) Na escola de natação há 288 alunos, distribuídos em 12 turmas diferentes, todas com o mesmo número de alunos. Quantos alunos há em cada turma?**

- A) 48      B) 30      C) 24      D) 20      E) 12

**46) Os alunos de uma determinada escola irão ao teatro. Entre alunos e professores, serão 529 pessoas. Cada um dos ônibus contratados para levá-los tem capacidade para 36 pessoas. Quantos ônibus serão necessários?**

- A) 14      B) 15      C) 17      D) 20      E) 24

**47) Paula está lendo um livro de 210 páginas. Já leu 5/7 do livro. Quantas páginas faltam ainda para Paula ler?**

- A) 50      B) 60      C) 80      D) 130      E) 150

**48) Rui mora a 2.700 m da escola. 1/3 do caminho ele faz a pé, até chegar à casa de Pedro, onde pega uma carona e segue de carro. Quantos metros Rui vai de carro?**

- A) 900 m      B) 1300 m      C) 1700 m      D) 1800 m      E) 1900 m

**49) Artur, Júlia e Sônia são irmãos. Sônia tem 8 anos. Artur nasceu 3 anos antes de Sônia. Sabendo que a soma das três idades é 24, qual a idade de Júlia?**

- A) 5      B) 7      C) 9      D) 11      E) 13

**50) Numa divisão, o dividendo é 243, o quociente é 34 e o resto é 5. Qual é o divisor?**

- A) 5      B) 7      C) 9      D) 11      E) 13

**51) Marina está organizando uma festa de aniversário. A previsão é de que cada convidado beba até 1/4 de uma garrafa de refrigerante de 2 litros. Quantas garrafas de 2 litros ela precisa comprar, sabendo que haverá 40 convidados?**

- A) 5      B) 10      C) 15      D) 20      E) 25

52) Marque **V** para as afirmativas verdadeiras e **F** para as falsas.

- ( ) O maior número natural é o 9.999.999.  
 ( ) O menor número natural com quatro algarismos distintos é 1.023.  
 ( ) O sucessor de 4.870 é 4.871.  
 ( ) O maior número natural formado por três algarismos diferente é 999.

A sequência está correta em

- A) V, V, V, F      B) F, V, V, V      C) F, V, V, F      D) F, V, F, F      E) V, V, F, F

53) Antônio, Beatriz e Clarice estavam jogando dardo. Veja os pontos que cada um fez nas duas primeiras partidas.

	Antônio	Beatriz	Clarice
1ª partida	1280	960	750
2ª partida	830	1150	1320

Analise as afirmativas a seguir.

- I. Antônio e Clarice fizeram o mesmo total de pontos.  
 II. Beatriz fez mais pontos.  
 III. Clarice fez menos pontos que Antônio.  
 IV. Antônio fez mais pontos que Beatriz.

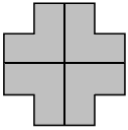
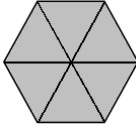
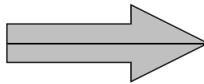
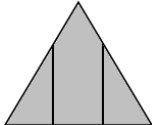

Estão corretas apenas as afirmativas

- A) I, IV      B) I, II, IV      C) I, II, III      D) I, II      E) II, III

54) Um caminhão pesa 35 toneladas. O peso de uma Boeing 747 é de aproximadamente 5 vezes o peso do caminhão. Qual o peso, em quilogramas, do Boeing 747?

- A) 175 Kg      B) 1.750.000 Kg      C) 185.00 Kg      D) 155.000 Kg      E) 175.000 Kg

55) Assinale a alternativa em que a figura NÃO foi dividida corretamente, ou seja, em partes iguais.

- A) 
- B) 
- C) 
- D) 
- E) 

56) De acordo com o Estatuto dos Servidores Públicos do município de Porto Alegre, “\_\_\_\_\_ é o conjunto de cargos e funções gratificadas.”

(Lei Complementar nº 133, Art. 6º)

Assinale a alternativa que completa corretamente a afirmação anterior.

- A) classe      B) quadro      C) comissão      D) investidura      E) atribuição cometida

57) De acordo com o Estatuto dos Servidores Públicos do município de Porto Alegre, são requisitos para ingresso no serviço público municipal, EXCETO:

- A) Ter boa conduta.      D) Ter dezoito anos de idade.  
 B) Ser brasileiro.      E) Ser empregado contratado.  
 C) Gozar de boa saúde física e mental.

**58) De acordo com o Decreto Municipal, que regulamenta o Estágio Probatório dos Servidores do município de Porto Alegre, à Comissão de Avaliação de Desempenho do Estágio Probatório compete**

**I.** analisar os dados levantados durante o período de avaliação do estágio probatório.

**II.** analisar as avaliações realizadas.

**III.** apreciar o relatório conclusivo da Equipe de Estágio Probatório, do órgão de controle e acompanhamento.

**Está(ão) correta(s) apenas a(s) alternativa(s)**

A) II

B) I, II, III

C) II, III

D) I

E) I, III

**59) De acordo com o Estatuto dos Servidores Públicos do município de Porto Alegre, marque V para as afirmativas verdadeiras e F para as falsas.**

Posse é a aceitação expressa do cargo pelo nomeado.

A posse processar-se-á mediante assinatura do termo, podendo ser tomada por procuração.

Exercício é o desempenho das atribuições do cargo pelo funcionário nele provido.

**A sequência está correta em**

A) V, V, F

B) V, F, V

C) F, F, V

D) V, V, V

E) F, V, F

**60) De acordo com o Estatuto dos Servidores Públicos do município de Porto Alegre, “ \_\_\_\_\_ é o agrupamento de cargos da mesma profissão ou atividade e do mesmo nível de dificuldade.”**

*(Lei Complementar, n.º. 133, Art. 5º)*

**Assinale a alternativa que completa corretamente a afirmação anterior.**

A) recrutamento

B) provimento

C) serviço

D) classe

E) quadro